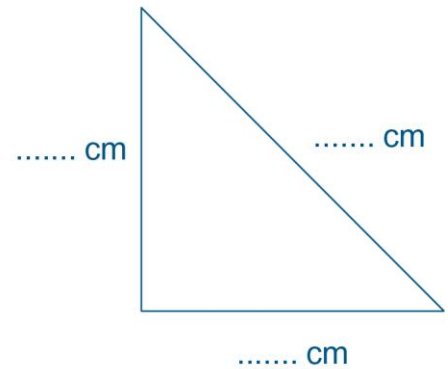
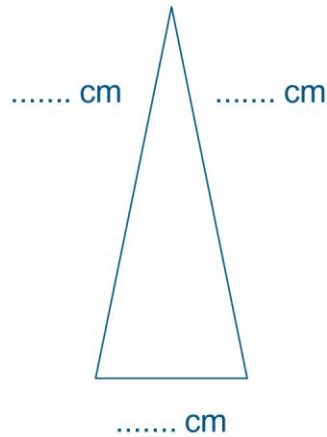
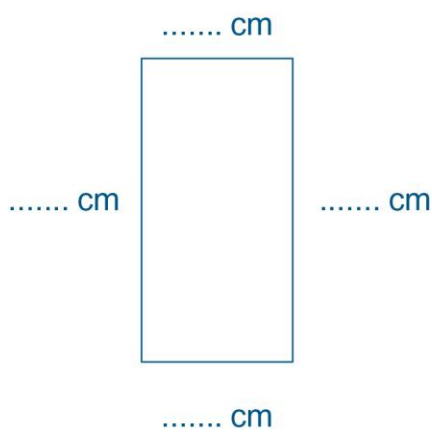


Prénom : Date :

Utiliser la règle graduée, l'équerre et le compas

1. Sur les figures ci-dessous, marque les angles droits. Ensuite, mesure la longueur des côtés et écris-la.



2. Trace les segments suivants.

AB = 3 cm

CD = 7 cm

EF = 5 cm 5 mm

GH = 6 cm 3 mm

3. Trace des angles droits.

4. Trace un cercle.

5. Trace trois cercles qui se coupent.